

Ficha 1. El sector primario


- El **sector primario** es el conjunto de actividades económicas que las personas realizan para **obtener recursos de la naturaleza**.
- El sector primario está formado por la **agricultura**, la **ganadería**, la **pesca**, la **explotación forestal** y la **minería**.

1 Indica si las siguientes imágenes corresponden a actividades del sector primario. En caso afirmativo, señala de qué actividad se trata.

a)



b)



c)



d)



2 Marca con una X los productos que se obtengan directamente de una actividad del sector primario:

- | | | |
|--|--|---------------------------------------|
| ■ Fresas. <input type="checkbox"/> | ■ Hormigón. <input type="checkbox"/> | ■ Cebada. <input type="checkbox"/> |
| ■ Manzanas. <input type="checkbox"/> | ■ Lámpara. <input type="checkbox"/> | ■ Jersey. <input type="checkbox"/> |
| ■ Boquerones. <input type="checkbox"/> | ■ Cemento. <input type="checkbox"/> | ■ Uvas. <input type="checkbox"/> |
| ■ Batidora. <input type="checkbox"/> | ■ Ladrillos. <input type="checkbox"/> | ■ Huevos. <input type="checkbox"/> |
| ■ Tractor. <input type="checkbox"/> | ■ Pescadilla. <input type="checkbox"/> | ■ Lavadora. <input type="checkbox"/> |
| ■ Lana. <input type="checkbox"/> | ■ Trigo. <input type="checkbox"/> | ■ Zapatos. <input type="checkbox"/> |
| ■ Madera. <input type="checkbox"/> | ■ Gambas. <input type="checkbox"/> | ■ Ordenador. <input type="checkbox"/> |
| ■ Limones. <input type="checkbox"/> | ■ Televisor. <input type="checkbox"/> | ■ Papel. <input type="checkbox"/> |

Ficha 3. La ganadería


- La **ganadería** obtiene de los **animales** diversos productos, como **carne, leche y lana**.
- Hay distintos **tipos de ganado**: bovino o vacuno, ovino, porcino, equino, caprino, avícola...
- Según las técnicas que utilizan, existen diferentes **tipos de ganadería**: extensiva e intensiva, estabulada y no estabulada, etcétera.

1 Indica si las siguientes frases son verdaderas o falsas y corrige estas últimas:


- De las ovejas se obtiene carne, leche y lana.
- La leche se produce en las máquinas de las fábricas.
- Las vacas producen lana.
- De las vacas se obtiene carne y leche.

2 Observa los dibujos y escribe debajo de cada animal el tipo de ganado al que corresponde.


a)




b)




c)



d)



e)



f)



3 Completa las frases con la palabra correcta:

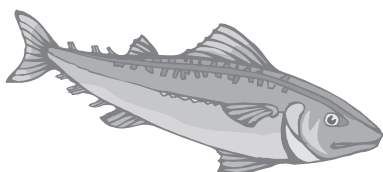
- La ganadería extensiva necesita **grandes/escasas** _____ inversiones.
- En la ganadería intensiva se realizan **grandes/pequeñas** _____ inversiones para obtener productos de calidad.
- En la ganadería estabulada los animales se crían en **establos/praderas** _____ y se alimentan de piensos. En la ganadería no estabulada los animales se crían al aire libre y se alimentan de **piensos/pastos naturales** _____.

Ficha 4. La explotación forestal y la pesca


- La **explotación forestal** se basa en la obtención de **madera de los bosques**; los bosques también ofrecen otros productos, como el caucho o la resina. Para evitar que la explotación forestal cause la desaparición de los bosques se realizan **replantaciones forestales**.
- La **pesca** es la **captura de peces** y otras especies acuáticas para usarlas como alimento o para fabricar productos industriales. Existen varios **tipos** de pesca: la de **bajura** y la de **altura**.

1 Observa estas imágenes y debajo de ellas escribe qué representan y si se relaciona con la pesca, con la explotación forestal o con ninguna de las dos actividades.


a)




b)



c)



d)



e)



f)



2 Busca en un diccionario el significado del término *deforestación* y explícalo. Indica en qué consiste la repoblación forestal.

3 ¿Qué relación hay entre la deforestación y la repoblación forestal?

4 Relaciona con flechas:

Pesca de bajura

Pesca de altura

Lejos de la costa

Barcos pequeños

Cerca de la costa

Barcos grandes